

CHỦ ĐỀ 2


PHÉP CỘNG, PHÉP TRỪ TRONG PHẠM VI 20



BÀI 13

BÀI TOÁN VỀ NHIỀU HƠN,
ÍT HƠN MỘT SỐ ĐƠN VỊ

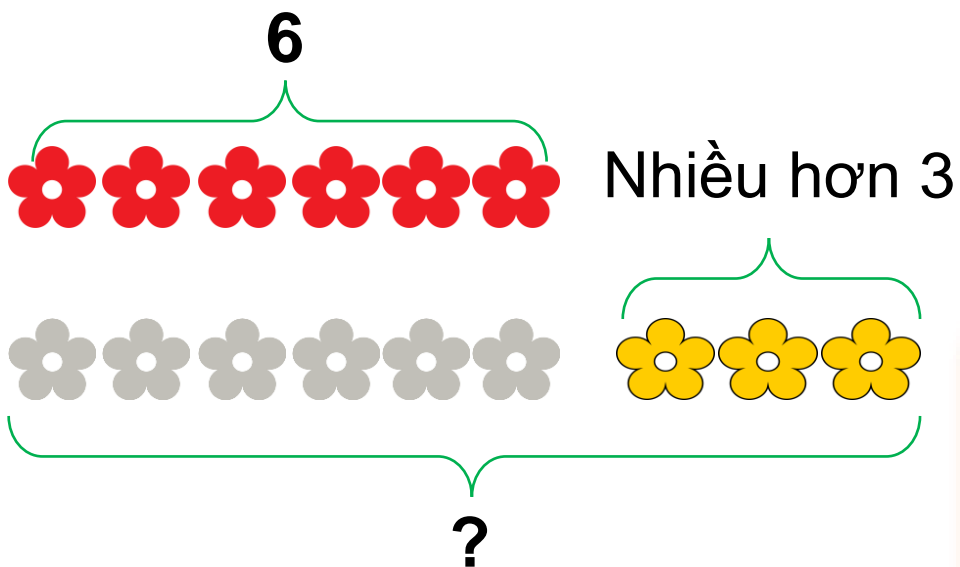




Khám phá

Giải bài toán về nhiều hơn một số đơn vị

Có 6 bông hoa màu đỏ, số bông hoa màu vàng nhiều hơn số bông hoa màu đỏ là 3 bông. Hỏi có bao nhiêu bông hoa màu vàng?



Bài giải

Số bông hoa màu vàng là:

$$6 + 3 = 9 \text{ (bông)}$$

Đáp số: 9 bông hoa.

HOẠT
ĐỘNG





1 Trong một lớp học bơi có 9 bạn nam, số bạn nữ nhiều hơn số bạn nam là 2 bạn. Hỏi lớp học bơi có bao nhiêu bạn nữ?

Tóm tắt

Nam: 9 bạn

Nữ nhiều hơn nam: 2 bạn

Nữ: ... bạn?



Bài giải

Số bạn nữ của lớp học bơi là:

$$\boxed{9} + \boxed{2} = \boxed{11} \text{ (bạn)}$$

Đáp số: $\boxed{11}$ bạn nữ.


- 2 Trên sân có 14 con gà, số vịt nhiều hơn số gà là 5 con.
Hỏi trên sân có bao nhiêu con vịt?

Tóm tắt

Gà: 14 con

Vịt nhiều hơn gà: 5 con

Vịt: ... con?




Bài giải

Số con vịt trên sân là:

$$14 + 5 = 19 \text{ (con)}$$

Đáp số: 19 con vịt.

KHÁM PHÁ



Khám phá

Giải bài toán về ít hơn một số đơn vị

Mai gấp được 8 cái thuyền, Nam gấp được ít hơn Mai 2 cái.

Hỏi Nam gấp được mấy cái thuyền?



Mai:

8

Ít hơn 2

Nam:

?

Bài giải

Số thuyền Nam gấp được là:

$$8 - 2 = 6 \text{ (cái)}$$

Đáp số: 6 cái thuyền.

HOẠT
ĐỘNG





Trong hội thi hát quan họ, thôn Thượng tham gia 9 tiết mục, thôn Hạ tham gia ít hơn thôn Thượng 3 tiết mục. Hỏi thôn Hạ tham gia bao nhiêu tiết mục?

Tóm tắt

Thôn Thượng: 9 tiết mục

Thôn Hạ ít hơn thôn Thượng: 3 tiết mục

Thôn Hạ: ... tiết mục?



Bài giải

Số tiết mục thôn Hạ tham gia là:

$$\boxed{9} - \boxed{3} = \boxed{6} \text{ (tiết mục)}$$

Đáp số: $\boxed{6}$ tiết mục.



1 Giải bài toán theo tóm tắt sau:

Tóm tắt

Tàu thứ nhất: 20 thùng hàng

Tàu thứ hai nhiều hơn tàu thứ nhất: 8 thùng hàng

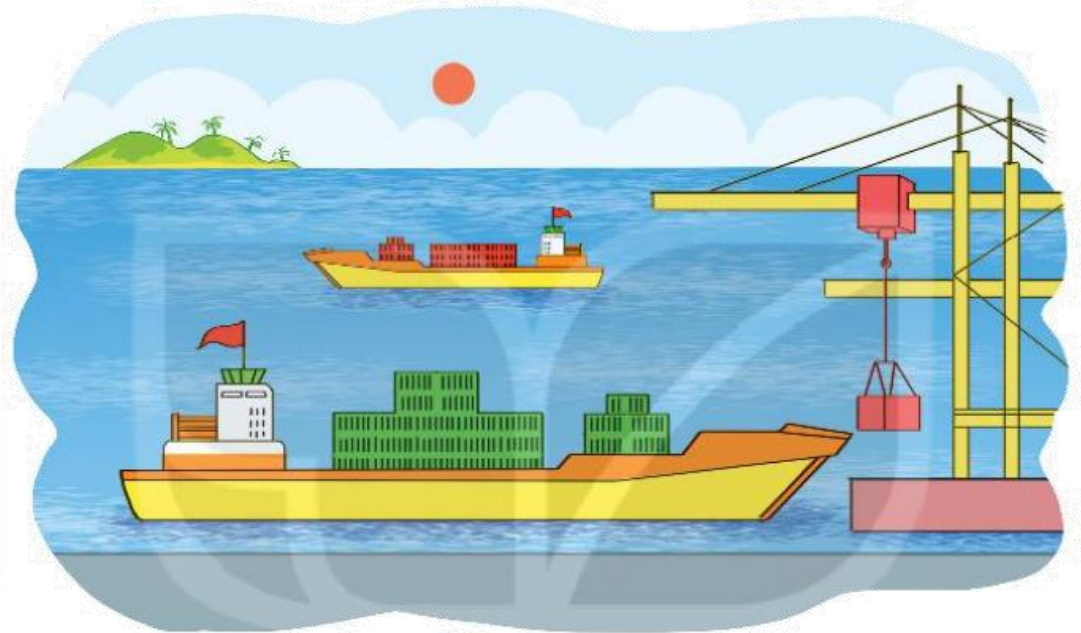
Tàu thứ hai: ... thùng hàng?

Bài giải

Số thùng hàng tàu thứ hai có là:

$$20 + 8 = 28 \text{ (thùng hàng)}$$

Đáp số: 28 thùng hàng.



2 Trong ngày hội cồng chiêng, đội Một có 11 người tham gia, đội Hai có số người tham gia ít hơn đội Một là 4 người. Hỏi đội Hai có bao nhiêu người tham gia ngày hội?



Tóm tắt

Đội Một: 11 người

Đội Hai ít hơn đội Một: 4 người

Đội Hai: ... người?

Bài giải

Số người tham gia của đội Hai là:

$$11 - 4 = 7 \text{ (người)}$$

Đáp số: 7 người.